

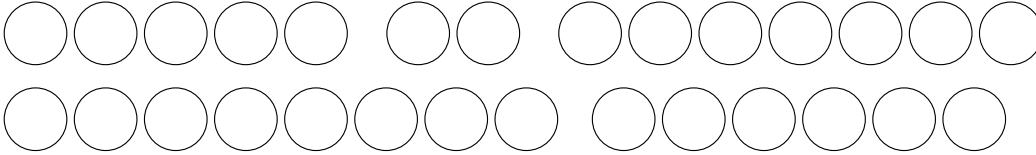
Husité

LIST PRO CHYTRÉ HLAVY

Expozice ve staré tábořské radnici,
Žižkovo náměstí 1
Užijte si prohlídku!

Zaškrtněte písmena u správných odpovědí a vyplňuj je do políček tajenky.
Vyjde ti dokončení věty K. H. Borovského z roku 1848:

NÁRODE, ODLOŽ ZE SEBE PŘÍLIŠNOU SKROMNOST, ...




VSTUPNÍ HALA

1 Z jakého materiálu je volná kopie Žižkovy sochy vytvořená sochařem Myslbekelem roku 1880 pro město Čáslav?

- a) patinovaná sádra
- b) cínový bronz
- c) ebenové dřevo

**K
S
R**



2 Naproti Žižkovi je vchod do tábořského podzemí. Jaké délky by dosáhly chodby, kdyby byly všechny sklepy pod starým městem byly propojené?

- a) 2 500 m
- b) 13 000 m
- c) 900 m

**A
T
U**

VIDEO

3 Ve středověku kvůli špatné hygieně často propukaly epidemie. V čem lidé nacházeli útěchu?

- a) ve válce
- b) v tanci
- c) ve víře

**S
D
E**

4 Co znamená slovo schizma?

- a) rozdělení nebo rozštěpení
- b) duševní onemocnění
- c) prostředek proti morové nákaze

**R
Y
J**

5 Co ve filmu zastupuje obrat „Jakoby na obloze vyšla tři slunce“?

- a) trojjednost boha
- b) vládu tří papežů
- c) silnou trojku Karel IV., Václav IV. a Zikmund

**E
Á
N**

Místnost 1 HLEDÁNÍ SPRÁVNÉ CESTY

6 Z mapy vyčti, kterými městy projel Jan Hus na cestě do Kostnice:

- a) Krakovec, Tachov, Oberviechtach, Sulzbach, Norimberk, Ulm, Ravensburg, Kostnice
- b) Krakovec, Tachov, Weiden, Sulzbach, Norimberk, Ulm, Curych, Kostnice
- c) Krakovec, Tachov, Weiden, Sulzbach, Norimberk, Ulm, Ravensburg, Kostnice

O

K

S



7 Kde leží Husinec?

- a) blízko Prahy
- b) blízko Klatov
- c) blízko Prachatic

**I
D
E**

8 Spoj roky se správnými událostmi a v pořadí roků zapiš písmena do tajenky.

- 1401 Jan Hus se stal kazatelem v Betlémské kapli.
- 1402 Jan Hus byl jmenován rektorem pražské univerzity.
- 1409 Jan Hus napadl prodej odpustků a ztratil podporu krále Václava IV.
- 1412 Jan Hus byl vysvěcen na kněze.

**E
S
L
N**

Místnost 2 VÁLKY V DOBĚ HUSITŮ

9 Najdi správný šuplík a zjisti složení černého střelného prachu.


- a) směs ledku, dřevěného uhlí a modré skalice
- b) směs ledku, dřevěného uhlí a síry
- c) směs dřevěného uhlí, železných pilin a síry

**R
U
Z**

10 Proč byly dřevěné dobývací stroje kryty syrovými kůžemi?

- a) Aby za deště nenavlhly.
- b) Aby vypadaly děsivě.
- c) Aby se nedaly zapálit.

**C
M
Š**



11 Někde v místnosti si můžeš všimnout husity používajícího želízko. K čemu sloužilo?

- a) jako těžítka na zatěžování map **L**
- b) na zapálení střelného prachu **I**
- c) k vypalování cejchů **U**

Místnost 3 NA BITEVNÍCH POLÍCH

12 Z čeho byly financovány války s husity?

- a) V Římské říši byla zavedena zvláštní daň. **P**
- b) Jednalo se o záležitost cti, a tak všichni bojovali dobrovolně. **N**
- c) Z příjmů ze zámořských kolonií v Indii a Africe. **S**

Místnost 4 TAJEMSTVÍ VOJEVŮDCE

13 Všimni si pavězy vyobrazující Davida a Goliáše. Proč byl tento námět u husitů oblíbený?

- a) Protože i malý národ dokáže díky Boží přízni porážet silné nepřátele. **O**
- b) Protože se husité cítili silní a odhodlaní jako obr Goliáš. **K**
- c) Protože husité považovali bitvu za předem prohranou. **M**



14 Najdi Žižku na vyobrazení bitvy u Grunwaldu od malíře Jana Matejky a zjisti, které oko má zakryté.

- a) levé **Y**
- b) pravé **A**
- c) žádné **T**

Místnost 5 HLEDÁNÍ KRÁLE

15 Proč je na mapě Českého království z roku 1518 nakreslen vůz s opačnými zápražemi?

- a) Představuje spojení síly lidí různých vyznání. **E**
- b) Předkládá, jak jsou Češi zmatení, že ani zapráhnout neumí. **D**
- c) Představuje rozdílné zájmy katolíků a kališníků. **O**

16 Jak zahynul král Ludvík Jagellonský, který byl korunován jako tříleté batole?

- a) Jako mladík v boji s Turky. **M**
- b) Jako zralý muž na mrtvici. **O**
- c) Jako úctyhodný kmet stářím. **S**

Místnost 6 VLASTNÍ CESTOU

17 Martin Luther se považoval za...?

- a) Husova nástupce **K**
- b) Husova odpůrce **T**
- c) neznalého Husových myšlenek **V**

18 Obnovené zřízení zemské, vydané roku 1627 pro České Království a roku 1628 pro Moravu, vyhlásilo...

- a) úplnou náboženskou svobodu **C**
- b) katolictví za jedinou povolenou víru **Ů**
- c) toleranci k reformačním církvím **L**

Místnost 7 PAMĚŤ

19 Nakresli, co je na vlajce s heslem „Tábor je náš program.“

20 Proč prezident Masaryk při oficiální návštěvě Tábora v roce 1919 prohlásil „Tábor je náš program“?

- a) Protože sem rád jezdil s rodinou na výlety. **R**
- b) Protože byl stoupencem komunistické ideologie a chtěl, aby bylo všechno všech. **E**
- c) Protože si zde lidé nezávisle na moci panovníka vytvořili demokratické zřízení. **M**

21 Čím byl zvláštní nový státní znak z roku 1960?

- a) Obsahoval místo pěticípé hvězdy kalich. **M**
- b) Je na něm vyobrazen Jan Žižka. **S**
- c) Používá tvar pavězy. **T**



Místnost KAPLE

22 Co je namalováno na střední desce oltáře?

- a) Mistr Jan Hus **U**
- b) Anděl a kalich **Á**
- c) Ježíš Kristus **K**

23 Co obsahuje kniha liturgických písní z Litoměřic?

- a) mešní zpěvy **B**
- b) lidové písně a písně k tanci **S**
- c) husitský chorál **A**

Místnost 8 MĚSTO

24 Co řekl roku 1452 legát římského krále Piccolomini?

- a) „Kdyby hlupáků nebylo, kde by se brala moudrost?“ **K**
- b) „Hle přátelé, kterak ženy tábořské znají písmo svaté lépe, než kdejaký kněz z mé vlasti.“ **O**
- c) „Ať všechny Čechy vezme ďas, tak nyní buď i v příští časy chlapý kmene selského...“ **I**

25 Proč na kašně na náměstí stojí socha rytíře Rolanda?

- a) Byl to druhý tábořský hejtman. **TY**
- b) Představuje znak křesťanské tradice. **TŮ**
- c) Zosobňoval právo města konat trhy. **RŮ**

