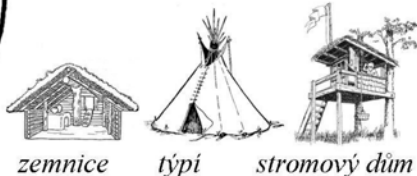


## 12 úkolů na náměstí

1 Jsme ve Staré radnici. Tady odkryli obydlí z doby zakládání husitského města. Jak myslíš, že vypadalo? Vyber ze 3 možností!




zemnice týpí stromový dům

2 Na prostředním štítě bývaly hodiny. Mají 24 číslic a jen jednu ručičku. Ale kde jsou teď? Rozhlédni se kolem a vyber správnou odpověď!

- na televizním vysílání
- na radniční věži
- na hospodě

3 Malý krámk na rohu radnice má neobvyklou výzdobu. Spočítej kolik je na něm květů! A pojmenuj zvířata na fasádě.

4 Škochův dům má na štítě ornamenty. Podívej se na ně pořádně a hádej, jak se jim říká.



- kočičí hřbety
- muší hřbety
- oslí hřbety

5 Podívej se pod nohy! Na dlažbě je mapa náměstí. Co je vyznačeno červenými kostkami?

- poslední tažení husitských vojsk
- trasa podzemními chodbami
- cesta od hospody k hospodě

6 Na domě U zlatého lva je vyobrazeno husitské vojsko. Najdeš a nakreslíš pavězu, když víš, že je to vysoký dřevěný štít, který zakryl skoro celého bojovníka?

7 Rytíři, který stojí na kašně, říkáme Koudelka. Oběhni 3x kašnu a dávej pozor na delfíny! Vypadají trochu nebezpečně!

8 Socha Žižky stojí na podstavci, na kterém je datum napsáno římskými číslicemi. Vyluštíš ho, když víš, že M = 1000, D = 500, C = 100, L = 50, X = 10, V = 5, I = 1?

Léta Páně MDCCCLXXVII =

9 Kostel byl zprvu dřevěný, a proto zmiňovaný Eneáš Sylvius tvrdil, že se podobá stodole. Kamenná stavba vyhořela. Dokresli obrázek z roku 1602. Můžeš podle dnešního stavu, ale můžeš si i trochu vymýšlet.



10 Městský úřad sídlí v budově, který nechala vystavět Spořitelna. Pozorně se podívej, co drží andílky kolem vstupních dveří! Napiš alespoň tři druhy náradí, které zde objevíš!

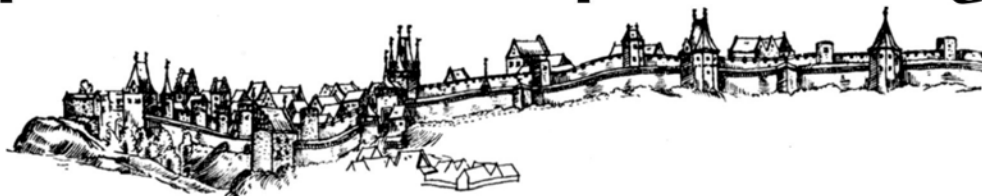
- 
- 
- 

11 Dům má na svých třech štítech vyobrazeny tři varianty prvního znaku města Tábora. Vyber si jeden a nakresli ho na pečet v pravém dolním rohu této mapy!

12 V průchodu jsou stěny vyzdobeny sgrafity. Pořádně se podívej, jakým trikem s dvoubarevnou omítkou vznikly! Co připomínají?

jablíčka psanička peříčka

# putování s práčaty



## za tábořskými tajnostmi



ŘÍKÁME SI PRÁČATA A TÁBOR ZNÁME JAKO SVOJE BOTY. VYDEJ SE S NÁMI NA DOBRODRUŽNOU VÝPRAVU DO JEHO KŘIVOLAKÝCH ULIČEK!



NEMUSÍŠ SE BÁT, PRÁT SE NEBUDEM!

- Budeš potřebovat tužku a cesta ti zabere asi půl hodiny.
- Když projdeš celou trasu a splníš úkoly, dojdeš k Bechyňské bráně pod věž Kotnov, kde získáš za své statečné činy glejt!
- Pak budeš patřit mezi lid tábořský, o kterém Ital Eneáš Sylvius roku 1451 napsal, že je to lid hrubý a neokrouchaný, mnohý bezoký či bezruký!

## 12 úkolů v uličkách

13 V domě čp. 32 byla dříve radniční šatlava, hospoda a dnes zde najdete proslulé řeznictví u Čadilů. O jaké jde řeznictví?

slepičí vepřové koňské

14 Takovéhle úzké uličce se říká soutka. Když půjdeš s rozpaženýma rukama, určitě se v jednom místě dotkneš domů na obou stranách. Tak to vyzkoušej!

15 Zde býval hlučný dům šenkovní, kde se mnohé hádky a rvačky odehrály. Teď tyto vlny „připomíná“ jen výzdoba fasády. Čp.56 Nakresliš ji?

16 Táhle je patník! Chránil roh domu před koly povozů. Pneumatiky už tak nebezpečné nejsou, ale když se cestou budeš pozorně dívat, určitě patníků napočítáš aspoň 10! Nezapomeň si dělat čárku za každý, který potkáš!

PATNÍKY:

17 Odbočka do Zelenářské ulice vede na místo, kde na jedné straně psi a jeleni na domovním štítě dlí, na druhé straně zahrada tajemná za zdí voní. Poznáš ovocný strom v zahradě?

jabloň kokosovník ořešák

18 Dům s nápisem MĚSTSKÝ HUDEBNÍ ÚSTAV slouží stále hudební škole. Vymyslíš, proč ho před více než sto lety, kdy byl postaven, označovali „velký činžák“?

- kvůli tehdy vysokému nájemnému, tedy činži
- kvůli velikosti – ostatní domy byly v té době menší

19 Restaurace Modrá růže má u vchodu štít s růžemi. Jejich počet ti prozradí, se kterým rodem jsou spojovány.

2 3 4

Kolovratové Vůtkovci Přemyslovci

20 Vidiš ty malé dveře u země? Pro člověka tu nejsou, to je jasná věc! Nakresli, na koho ty dveře čekají!

21 Tomuhle domu se říká rakvárna! Protože před sto lety zde bylo truhlářství a sklad rakví Josefa Ungra. Teď už tady žádná nezbyla, tak si jednu nakresli! Čp.69

22 Nejmenší zahrádka v Táboře! Vyber, jaký má tvar.

čtverec obdélník trojúhelník

23 Tahle myší díra se napojuje na Ovocnou ulici. Protáhni se na druhou stranu!

24 Tohle už je druhá kašna, kterou jsme potkali. Jenže na Starém městě jich máme rovných 7! Teď je ale nehledej a upaluj na Kotnov pro glejt!\*

\*Pokladna muzea na Kotnově a Bechyňské bráně je otevřena od 9:00 do 17:00.

